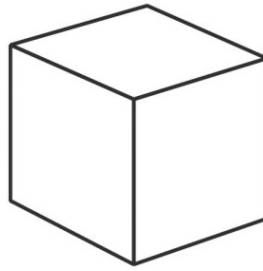


Name: _____


Die Körper




Name: _____
Ecken: _____
Flächen: _____
Kanten: _____



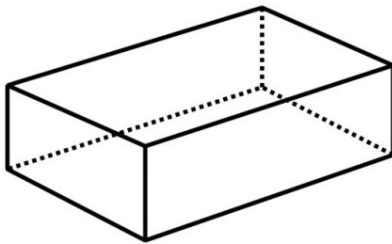
Name: _____
Ecken: _____
Flächen: _____
Kanten: _____



Name: _____
Ecken: _____
Flächen: _____
Kanten: _____

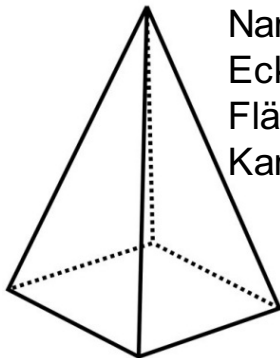


Name: _____
Ecken: _____
Flächen: _____
Kanten: _____



Name: _____
Ecken: _____
Flächen: _____
Kanten: _____

Kennst du alle
Körper?
Viel Erfolg!



Name: _____
Ecken: _____
Flächen: _____
Kanten: _____



Schätze dich selbst ein!



Punkte: _____ / 24